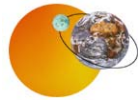


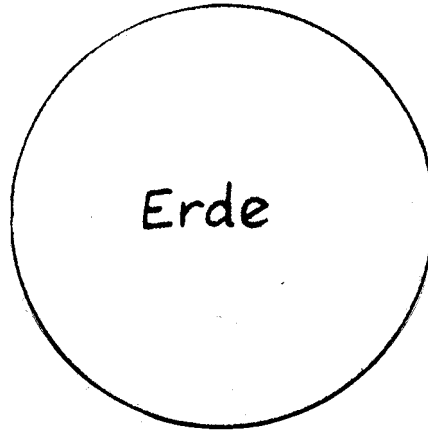
Name: _____

Datum: _____

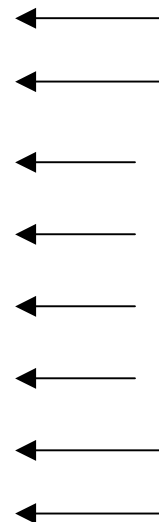
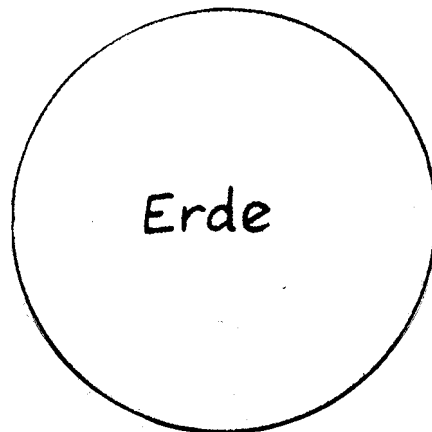
Blatt: _____



Tag und Nacht



1. Von welcher Seite kommt das Sonnenlicht? Zeichne Pfeile!



2. Wo ist Tag, wo ist Nacht? Klebe die Bilder an die richtigen Stellen!