

Name:


Datum:

Wir messen Temperaturen mit einem Digitalthermometer

☞ Suche dir im Klassenraum einige Gegenstände und übe das Messen der Temperatur mit dem Digitalthermometer. Trage nach jeder Messung den Wert in die Tabelle und in das Thermometer unten ein. Zeichne auch die Höhe der Flüssigkeit im Steigrohr ein, die sich beim Messen mit einem Flüssigkeitsthermometer ergeben würde. Viel Spaß dabei. ☺

Messung	Messgegenstand	Temperatur (°C)
1. Messung	Tafel	
2. Messung	Fensterscheibe	
3. Messung		
4. Messung		
5. Messung		


1.)



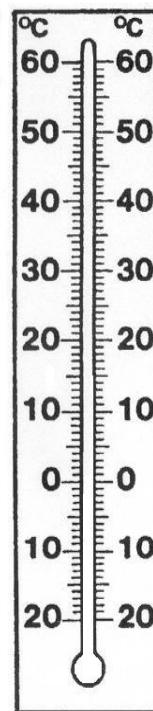
2.)



3.)



4.)



5.)

